

Задаци

Зора Голубовић

Септембар, 2018

1 час

1. Решити једначину $\{x\} + \{2x\} + \{3x\} = x$.

Разликујемо 4 случаја.

За $\{x\} = \alpha \in [0, \frac{1}{3})$ добија се $6\alpha = k + \alpha = x$, односно $0 \leq 5\alpha = k < \frac{1}{3}$, одакле је $k \in \{0, 1\}$ и $x \in \{0, \frac{6}{5}\}$.

За $\{x\} = \alpha \in [\frac{1}{3}, \frac{1}{2})$ добија се $\alpha + 2\alpha + 3\alpha - 1 = 6\alpha - 1 = k + \alpha = x$, односно $5\alpha = k + 1$ одакле је $k \in \{\frac{2}{3}, \frac{3}{2}\} \cap \mathbb{Z}$ и $x = \frac{7}{5}$.

За $\{x\} = \alpha \in [\frac{1}{2}, \frac{2}{3})$ добија се $x = \frac{8}{5}$.

За $\{x\} = \alpha \in [\frac{2}{3}, 1)$ добија се $x = \frac{9}{5}$.

2. Решити једначину $[\frac{5+6x}{8}] = \frac{15x-7}{5}$.

Сменом $m = [\frac{5+6x}{8}]$ добија се еквивалентна једначина $[\frac{m}{4} + \frac{39}{40}] = m$. Како је $m \leq \frac{m}{4} + \frac{39}{40} < m + 1$, следи $m \in (-\frac{1}{30}, \frac{13}{10}]$. Коначно, $x \in \{\frac{7}{15}, \frac{4}{5}\}$.

3. Решити систем једначина:

$$x + [y] + \{z\} = 1, 1,$$

$$y + [z] + \{x\} = 2, 2,$$

$$z + [x] + \{y\} = 3, 3.$$

Приметимо да је $x + y + z = 3, 3 = z + [x] + \{y\}$ $x = [x] - [y] \in \mathbb{Z}$. Лако се добија $x = 1, y = 0, 2, z = 2, 1$.

4. Решити систем једначина:

$$\begin{aligned}x - y &= 2001, \\ [x] + [y] &= 2003.\end{aligned}$$

Приметимо да је $\{x\} - \{y\} \in \mathbb{Z}$, одакле се сменом у прву једначину добија $x = 2001 + y$. Коначно, $[x] = 2002$, $[y] = 2$ и $\mathcal{R} = \{(2002 + w, 1 + w) : w \in [0, 1)\}$.

2 час

Принцип математичке индукције се може записати: $P(1) \wedge (\forall n \in \mathbb{N})(P(n) \implies P(n+1)) \implies (\forall n \in \mathbb{N})P(n)$.

1. Наћи цео део броја $a_n = \sqrt[3]{24 + \sqrt[3]{24 + \dots \sqrt[3]{24}}}$. Приметимо да је $2 \leq \sqrt[3]{24} < 3$. Доказ индукцијом.
2. Доказати да је $1^3 + 2^3 + 3^3 + \dots + n^3 = \frac{n^2(n+1)^2}{4}$. Посматрањем моничног полинома 4. степена или индукцијом.
3. Доказати Бернулијеву неједнакост: $(1+x)^n \geq 1+nx$, $x > -1$, $n \in \mathbb{N}$.

Индукцијом.

4. Доказати биномну формулу: $(a+b)^n = \sum_{k=0}^n \binom{n}{k} a^k b^{n-k}$.

Индукцијом.

3 час

1. Одредити број бинарних релација на n -елементном скупу.

$$2^{n^2}$$

2. Одредити број рефлексивних релација на n -елементном скупу (и број релација које нису рефлексивне).

$$2^{n^2-n} (2^{n^2} - 2^{n^2-n})$$

3. Одредити број симетричних релација на n -елементном скупу (и број релација које нису симетричне).

$$2^{\frac{n(n-1)}{2}} (2^{n^2} - 2^{\frac{n(n-1)}{2}})$$

4. Одредити број антисиметричних релација на n -елементном скупу.

$$2^n 3^{\frac{n^2-n}{2}}$$

5. Одредити број елемената партитивног скупа n -елементног скупа.

$$2^n$$

4 4

. Доказати да је пресликавање $f : \mathbb{N} \rightarrow \mathbb{R}$ $f(n) = \{\alpha n\}$ инјективно за свако $\alpha \in \mathbb{R} \setminus \mathbb{Q}$.

5. Нека је график функције $f : \mathbb{R} \rightarrow \mathbb{R}$ симетричан у односу на праве $x = a$, $x = b$, $a \neq b$. Доказати да је функција f периодична.

5 час

1. Нацртати график функције $y = \sqrt[3]{3x^2} - x$.

2. Нацртати график функције $y = \sqrt{\frac{x^2-4}{x^2-9}}$.

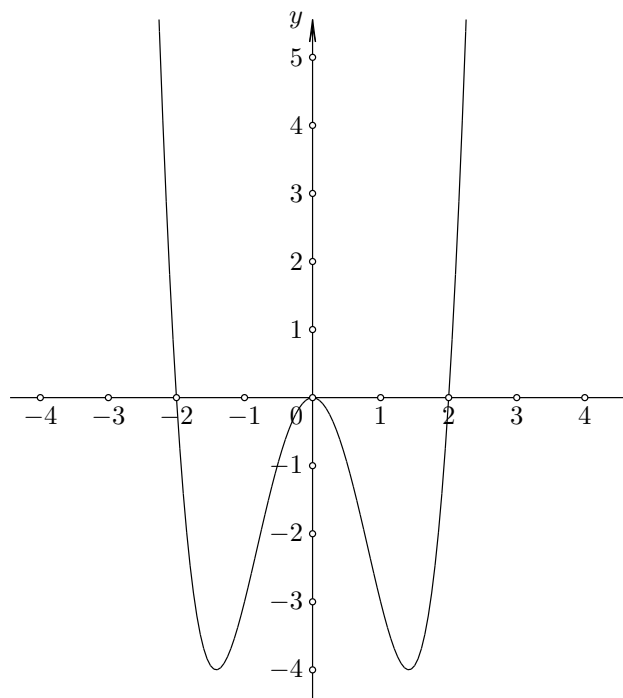
3. Нацртати график функције $y = \frac{x^2-2x-8}{x-1}$.

4. Функција $f : \mathbb{R} \rightarrow \mathbb{R}$ дата је са

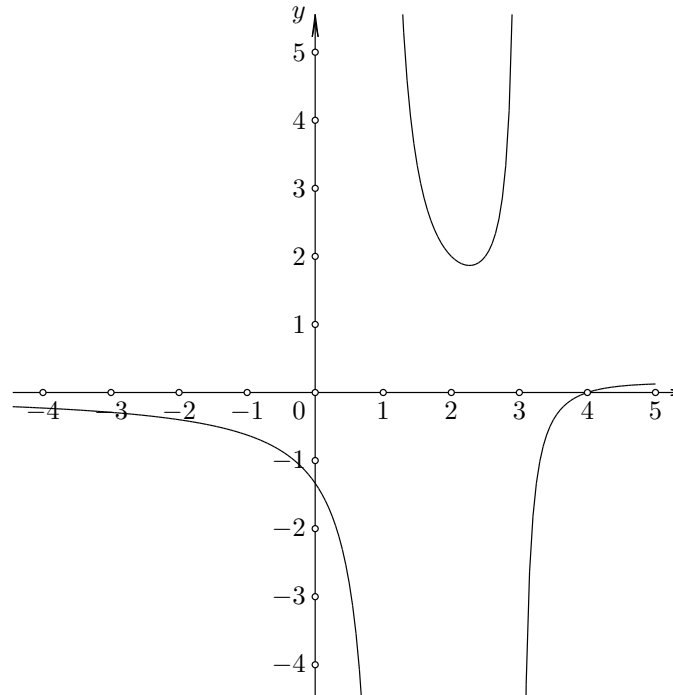
$$f(x) = \begin{cases} x, & x < -1, \\ -x - 2, & -1 \leq x < 0, \\ 2x - 2, & 0 \leq x < 1, \\ 2x - 4, & x \geq 1. \end{cases}$$

Нацртати графике функција $g : \mathbb{R} \rightarrow \mathbb{R}$ и $h : \mathbb{R} \rightarrow \mathbb{R}$ задате са $g(x) = |f(|x-2|)| + 1$ и $h(x) = |f(|x| - 2)| + 1$.

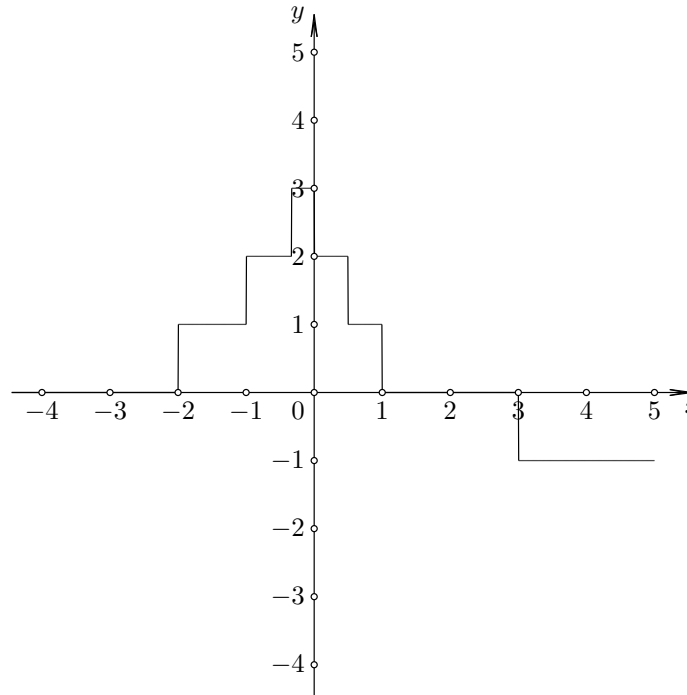
6 час



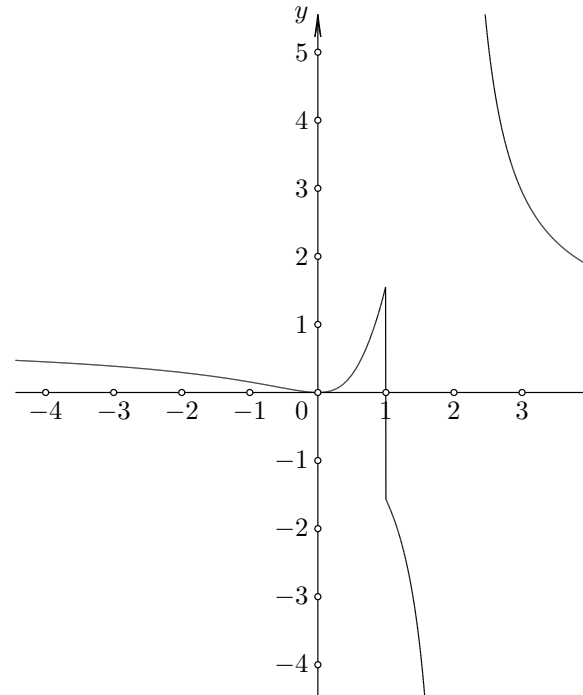
1. Нацртати график функције $y = x^4 - 4x^2$.
 $D = \mathbb{R}$. Функција је парна. Пресеци са x -осом су $(0, 0)$, $(-2, 0)$, $(2, 0)$.
Функција је позитивна на $(-\infty, -2) \cup (2, \infty)$, а негативна на $(-2, 2)$.
Испитивањем првог извода се добија да је функција растућа на $(-\sqrt{2}, 0) \cup (\sqrt{2}, \infty)$, а опадајућа на $(-\infty, -\sqrt{2}) \cup (0, \sqrt{2})$. Испитивањем другог извода се добија да је функција конвексна на $(-\infty, -\sqrt{\frac{2}{3}}) \cup (\sqrt{\frac{2}{3}}, \infty)$, а конкавна на $(-\sqrt{\frac{2}{3}}, \sqrt{\frac{2}{3}})$, па су превојне тачке $-\sqrt{\frac{2}{3}}$ и $\sqrt{\frac{2}{3}}$. Функција нема асимптота.



2. Нацртати график функције $y = \frac{x-4}{x^2-4x+3}$.
 $D = \mathbb{R} \setminus \{1, 3\}$. Функција није ни парна ни непарна. Пресек са x -осом је $(4, 0)$. Функција је позитивна на $(1, 3)$, а негативна на $(-\infty, 1) \cup (3, \infty)$.
 Функција има 2 вертикалне асимптоте и 1 хоризонталну.



3. Нацртати график функције $y = \left[\frac{3-x}{x^2+1} \right]$.
 $D = \mathbb{R}$. На помоћну функцију $y = \frac{3-x}{x^2+1}$, чији график се лако црта,
 применити функцију цео део.



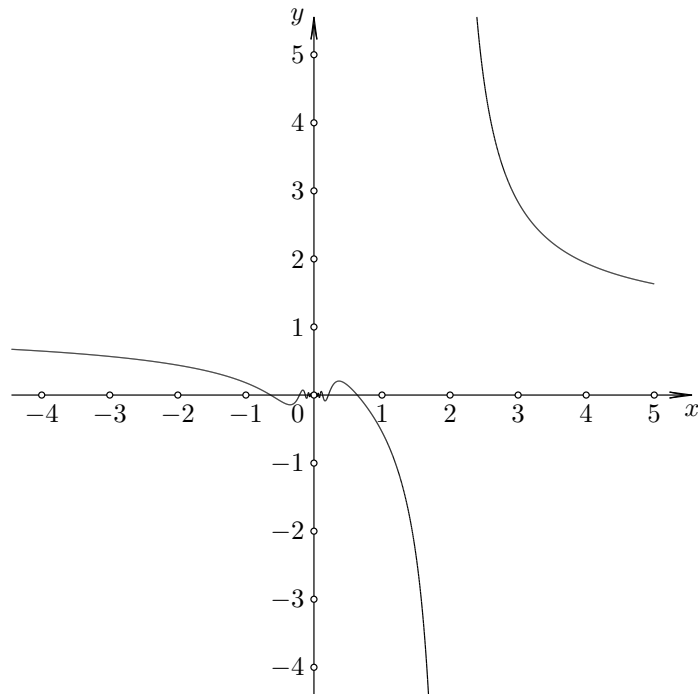
4. Нацртати график функције $y = \frac{x}{x-2} \arctan \frac{x}{x-1}$.

$D = \mathbb{R} \setminus \{1, 2\}$. Функција није ни парна ни непарна. Пресеци са x -осом су $(0, 0)$, $(1, 0)$. Функција је позитивна на $(-\infty, -2) \cup (2, \infty)$, а негативна на $(-2, 2)$. Испитивањем првог извода се добија да је функција растућа на

, j

. Испитивањем другог извода се добија да је функција конвексна на

, j



5. Нацртати график функције $y = \frac{x \cos \frac{1}{x}}{x-2}$.

$D = \mathbb{R} \setminus \{0, 2\}$. Функција није ни парна ни непарна. Пресеци са x -осом су $(0, 0)$, $(-2, 0)$, $(2, 0)$. Функција је позитивна на $(-\infty, -2) \cup (2, \infty)$, а негативна на $(-2, 2)$. Испитивањем првог извода се добија да је функција растућа на

, j

. Испитивањем другог извода се добија да је функција конвексна на

, , j

7 час

1. Наћи супремуме и инфимуме следећих скупова:

$$X = \left\{ \frac{1}{n} : n \in \mathbb{N} \right\},$$

$$Y = \left\{ \frac{(-1)^n (n-1)}{n} : n \in \mathbb{N} \right\},$$

$$Z = \left\{ \frac{3+(-1)^n}{2n+1} : n \in \mathbb{N} \right\}.$$

2. Доказати Коши-Шварцову неједнакост $(\sum_{i=1}^n a_i b_i)^2 \leq \sum_{i=1}^n a_i^2 \sum_{i=1}^n b_i^2$, за $a_i, b_i \in \mathbb{R}$.

Посматрањем дискриминанте једначине $(At + B)^2$ за одговарајуће A, B .

3. Доказати да низови $(-1)^n, \sin n$ дивергирају.

4. Наћи $\lim_{n \rightarrow \infty} \sum_{k=1}^n \frac{1}{\sqrt{n^2+k}}$.

Применом теореме о три низа.

5. Нека је $a > 0, x_1 > 0, x_{n+1} = \frac{1}{2}(x_n + \frac{a}{x_n}), n \in \mathbb{N}$. Доказати да низ конвергира и наћи му граничну вредност.

Доказати да је низ монотон и ограничен, па конвергира.

6. Нека је $c > 0, x_1 = \sqrt{c}, x_{n+1} = \sqrt{c + x_n}, n \in \mathbb{N}$. Доказати да низ конвергира и наћи му граничну вредност.

Доказати да је низ монотон и ограничен, па конвергира.

8 час

1. Нека је $a_1^2 > a_2^2 + \dots + a_n^2$ или $b_1^2 > b_2^2 + \dots + b_n^2$. Доказати да тада важи $(a_1 b_1 - a_2 b_2 - \dots - a_n b_n)^2 \geq (a_1^2 - a_2^2 - \dots - a_n^2)(b_1^2 - b_2^2 - \dots - b_n^2)$.

Посматрањем дискриминанте одговарајуће квадратне једначине.

2. Наћи граничну вредност низа $(a_n)_{n \geq 2}$ дефинисаног са $a_n = \sqrt[n+1]{(n+1)!} - \sqrt[n]{n!}$.

3. Низ реалних бројева задовољава $\lim_{n \rightarrow \infty} x_{2n} + x_{2n+1} = 315$ и $\lim_{n \rightarrow \infty} x_{2n} + x_{2n-1} = 2003$. Израчунати $\lim_{n \rightarrow \infty} \frac{x_{2n}}{x_{2n+1}}$.

4. Ако за низ реалних бројева $(a_n)_{n \geq 1}$ важи $\lim_{n \rightarrow \infty} (a_{n+1} - \frac{a_n}{2}) = 0$, доказати да је $\lim_{n \rightarrow \infty} a_n = 0$.

9 час

1. Одредити константе a , b и c тако да важи $\frac{x^3+4x}{x^2+2x} = a+bx+cx^2+o(x^2)$ за $x \rightarrow 0$.

$$a = 1, b = -1, c = 1.$$

2. Одредити константе a , b и c тако да важи $\sqrt[3]{x^3+x} = ax+b+\frac{c}{x}+o(\frac{1}{x})$ за $x \rightarrow -\infty$.

$$a = 1, b = 0, c = \frac{1}{3}.$$

3. Одредити константе a и b тако да важи $\sqrt{e^x+x} = a+bx+o(x)$ за $x \rightarrow 0$.

$$a = 1, b = 1.$$

4. Наћи $\lim_{x \rightarrow 0} \frac{(1+x)^x - \cos x}{x^2}$.

Добија се $\frac{3}{2}$ као резултат.

5. Наћи $\lim_{x \rightarrow 0} \frac{e^{\cos x} - e^{\sqrt{1-x^2}}}{x^4}$.

Добија се $\frac{e}{6}$ као резултат.

10 Литература

1. T-L. Radulescu, V. Radulescu, T. Andreescu, Problems in real analysis: Advanced calculus on the real axes, Springer, 2009.

2. ДМС, Тангента 10

3. <http://gen.lib.rus.ec/>

4. <http://www.wolframalpha.com/>

5. <http://poincare.matf.bg.ac.rs/~janicic/gclc/>

6. http://www.matf.bg.ac.rs/p/files/43-teor_6rojeva3online.pdf

7. <http://www.mi.sanu.ac.rs/gvm/Teze/MatematickaAnalizaI.pdf>

8.